




ラーメン屋さん その1

次の表は、あるラーメン屋さんの、昨年1年間に売れた冷やし中華^{ちゅうか}とみそラーメンの数です。表の空らんらんに、それぞれの月の売り上げ数を100の位ばいまでの概数^{がいすう}で書き入れなさい。また、表の右がわがわに、100の位ばいまでの概数^{がいすう}で、ぼうグラフを書きなさい。

冷やし中華の売り上げ
(単位・杯^{はい})

月	売上数	概数
1月	110	
2月	215	
3月	326	
4月	403	
5月	521	
6月	889	
7月	1005	
8月	1192	
9月	981	
10月	614	
11月	493	
12月	303	

()




()

みそラーメンの売り上げ
(単位・杯^{はい})

月	売上数	概数
1月	1117	
2月	1095	
3月	1021	
4月	995	
5月	901	
6月	789	
7月	696	
8月	623	
9月	705	
10月	884	
11月	1097	
12月	1206	

()



()



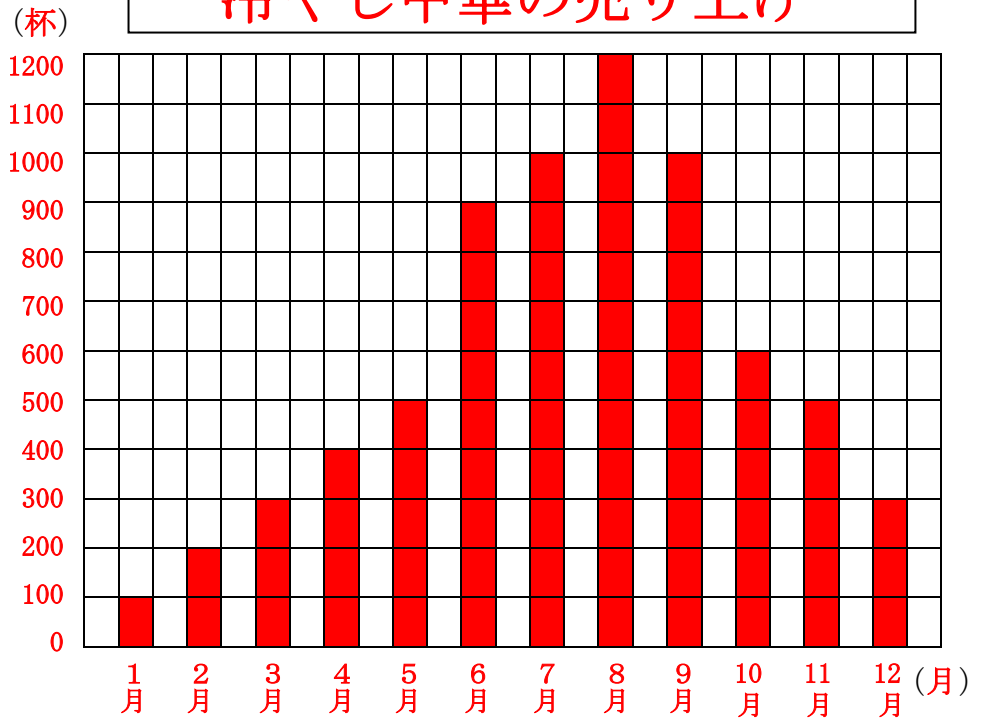
ラーメン屋さん その1

次の表は、あるラーメン屋さんの、昨年1年間に売れた冷やし中華とみそラーメンの数です。表の空らんがらに、それぞれの月の売り上げ数を100の位がまでの概数がで書き入れなさい。また、表の右がわがに、100の位がまでの概数がで、ぼうグラフを書きなさい。

冷やし中華の売り上げ
(単位・杯)

月	売上数	概数
1月	110	100
2月	215	200
3月	326	300
4月	403	400
5月	521	500
6月	889	900
7月	1005	1000
8月	1192	1200
9月	981	1000
10月	614	600
11月	493	500
12月	303	300

冷やし中華の売り上げ



みそラーメンの売り上げ
(単位・杯)

月	売上数	概数
1月	1117	1100
2月	1095	1100
3月	1021	1000
4月	995	1000
5月	901	900
6月	789	800
7月	696	700
8月	623	600
9月	705	700
10月	884	900
11月	1097	1100
12月	1206	1200

みそラーメンの売り上げ

