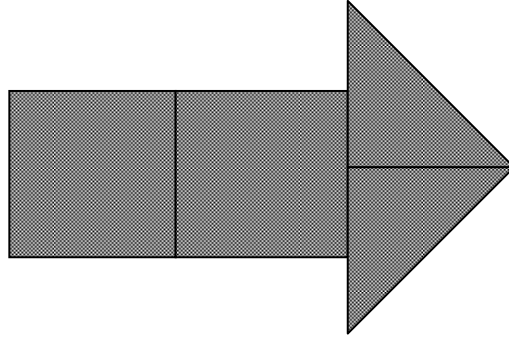
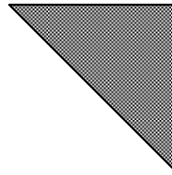
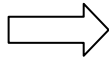



矢印

あきこさんは、一辺が4 cmの正方形の色紙を3枚使って、下のような矢印を作ろうと思います。

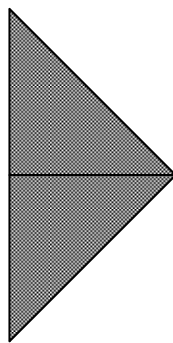


- (1) 3枚のうち、2枚はそのまま切らずに、重ならないようにはりませ。残りの1枚の色紙を下のように半分に切って、合同な2つの図形を作ります。切ってきた1つの図形はどんな図形ですか。当てはまるものを下のア～エの中からすべて選び、の中に記号で書きなさい。



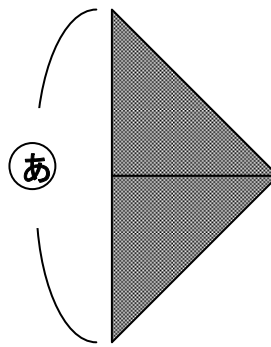
ア 正方形 イ 二等辺三角形 ウ 正三角形 エ 直角三角形

- (2) (1) でできた2つの合同な図形を下のように重ならないようにはりあわせませ。できた図形はどんな図形ですか。当てはまるものを下のア～エの中からすべて選び、の中に記号で書きなさい。

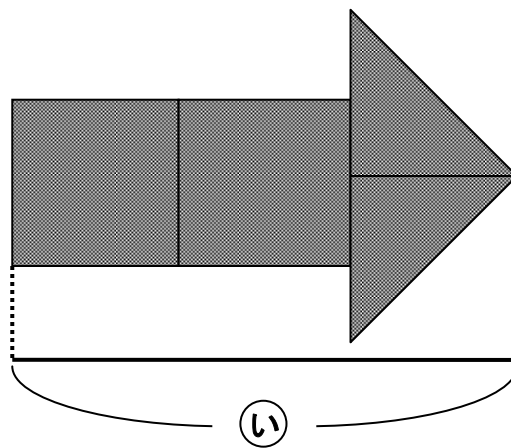


ア 正方形 イ 二等辺三角形 ウ 正三角形 エ 直角三角形

(3) 矢の部分の ② の辺の長さは何cmですか。 の中に書きなさい。

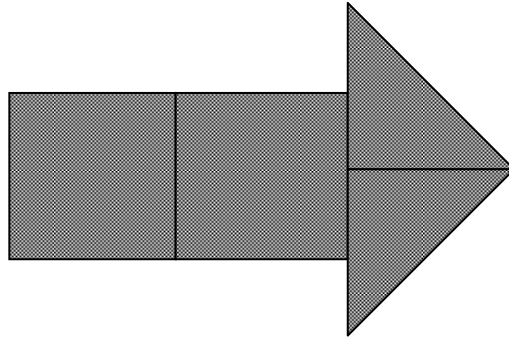


(4) 矢印全体の長さ ③ は何cmですか。 の中に書きなさい。






矢印

あきこさんは、一辺が4 cmの正方形の色紙を3枚使って、下のような矢印を作ろうと思います。

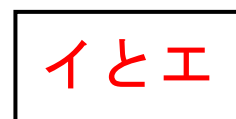
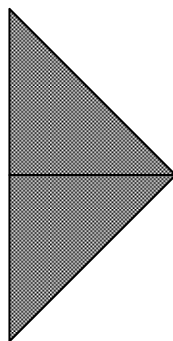


- (1) 3枚のうち、2枚はそのまま切らずに、重ならないようにはります。残りの1枚の色紙を下のように半分に切って、合同な2つの図形を作ります。切ってきた1つの図形はどんな図形ですか。当てはまるものを下のア～エの中からすべて選び、の中に記号で書きなさい。



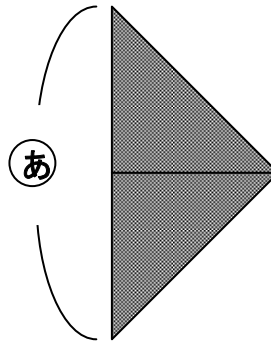
ア 正方形 イ 二等辺三角形 ウ 正三角形 エ 直角三角形

- (2) (1) でできた2つの合同な図形を下のように重ならないようにはりあわせませす。できた図形はどんな図形ですか。当てはまるものを下のア～エの中からすべて選び、の中に記号で書きなさい。



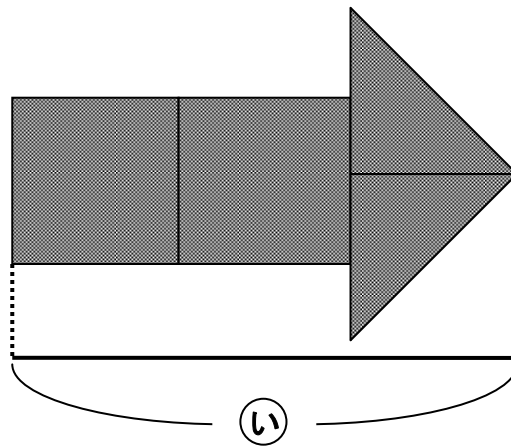
ア 正方形 イ 二等辺三角形 ウ 正三角形 エ 直角三角形

(3) 矢の部分の (あ) の辺の長さは何cmですか。 の中に書きなさい。



8 cm

(4) 矢印全体の長さ (い) は何cmですか。 の中に書きなさい。



12 cm